

**Задания для проведения промежуточной аттестации по технологии в 6 классе для учащихся очно-заочной и заочной форм обучения**

**Инструкция**

Выполните задания и в зачетный день для проверки пришлите файл по электронной почте.

Электронный ресурс для подготовки к аттестации:

<https://yadi.sk/i/fAwEStR7tG8Sh>

УЧИТЕЛЬ: Колычева Эльвира Ивановна (кабинет 02)

ekolycheva04@gmail.com

**1 четверть (не позднее 20.10.2021)**

**Контрольная работа по темам: "Интерьер жилого дома".**

**Часть А. Выберите правильные ответы (один или несколько):**

**1. Что относится к отделке потолка:**

- а) подвесные потолки
- б) натяжные
- в) подшивные
- г) окрашенные

**2. Для отделки стен используют:**

- а) штукатурка
- б) керамическая плитка
- в) пластиковые панели
- г) обои
- д) ламинат

**3. Что относится к отделке пола:**

- а) паркет
- б) массивная доска
- в) обои
- г) линолеум
- д) плитка

**4. Что относится к основным способам декорирования интерьера:**

- а) обивка мягкой мебели
- б) шторы, тюль
- в) ковры
- г) картины
- д) цветы

**Часть Б. Дополните ответы.**

1. Жилой дом - это...

2. Элемент убранства квартиры, поддающийся правилам фитодизайна - это \_\_\_\_\_.

**Часть С. Дайте развернутый ответ.**

1. Перечислите отдельные зоны (зонирования) жилого дома:

2. Перечислите технологию выращивания комнатных растений:

2 четверть (не позднее 15.12.2021)

Контрольная работа по темам: "Создание швейных изделий".

**Часть А. Выберите правильные ответы (один или несколько):**

**1. Искусственное шелковое волокно - это волокно:**

- а) химическое
- б) синтетическое

**2. Ткани из волокон искусственного шелка имеют свойства**

- а) не мнутся
- б) блестящие
- в) жесткие
- г) имеют хорошие теплозащитные свойства
- д) не скользят при раскрое

**3. Синтетические волокна получают**

- а) из древесины
- б) нефти
- в) растения

**4. Какие мерки необходимы для построения чертежа основы плечевого изделия**

- а) Ош
- б) Ог
- в) Оп
- г) Дтс
- д) Ди
- е) Дпр

**5. Установите соответствие**

- 1. Примётывание
- 2. Вымётывание

а. Это временное ниточное закрепление предварительно стачанных на машинке и вывернутых краёв деталей для сохранения приданной им формы.

б. Это временное ниточное соединение мелких деталей с крупными, например: подкройной обтачки с деталями спинки и переда.

1- \_\_\_\_; 2- \_\_\_\_\_ .

**Часть Б. Дополните ответы.**

1. Моделирование - это...

2. Сложным и ответственным этапом изготовления швейного изделия, называется \_\_\_\_\_ .

**Часть С. Дайте развернутый ответ.**

1. Какие правила нужно соблюдать при снятии мерок.

**3 четверть (не позднее 02.03.2022)**  
**Контрольная работа по темам: "Кулинария".**

**Часть А. Выберите правильные ответы (один или несколько):**

**1. Установите соответствие**

1. рассыпчатая каша
2. вязкая каша
3. жидкая каша

а) держится на тарелке горочкой, не расплывается. Зёрна в ней должны быть хорошо разварены и слипаться между собой.

б) зёрна должны быть набухшими, полностью проваренными, легко отделяться друг от друга.

в) варят так же, как и рассыпчатые только увеличивают количество жидкости.

**2. В кулинарии рыбу можно разделить по каким признакам**

- а) по размерам
- б) по характеру покрова
- в) по состоянию
- г) по строению
- д) по способу разделки
- е) по содержанию жира

**3. По каким признакам можно определить доброкачественность рыбы**

- а) неприятному запаху
- б) блестящая чешуя
- в) выпуклые прозрачные глаза
- г) крепко вросшая чешуя
- д) красные жабры

**4. К нерыбным продуктам моря относятся**

- а) крабы
- б) креветки
- в) речные раки
- г) карась
- д) омары
- е) морские водоросли

**5. Что относится к признакам доброкачественности мяса**

- а) запах
- б) цвет
- в) консистенция

**Часть Б. Дополните ответы.**

1. Запанировать - это...

2. Один из древнейших продуктов питания человека это - \_\_\_\_\_ .

**Часть С. Дайте развернутый ответ.**

1. Какую технологию нужно соблюдать при приготовлении каш.

4 четверть (не позднее 11.05.2022)

**Итоговая контрольная работа**

**1. Выпишите все санитарно – гигиенические требования:**

- а) руки мойте с мылом;
- б) проверьте исправность шнура перед выключением электроприбора;
- в) наденьте фартук;
- г) уберите волосы под головной убор;
- д) включайте и выключайте электроприборы сухими руками

**2. Какие продукты получают из молока?**

- а) творог
- б) масло сливочное
- в) сметану
- г) кефир
- д) сырники

**3. Кисломолочными продуктами являются:**

- а) молоко
- б) кефир
- в) мороженое
- г) сметана

**4. Каши можно варить:**

- а) на молоке
- б) на воде
- в) на киселе
- г) на компоте

**5. Манную крупу вырабатывают из зерновой культуры:**

- а) просо
- б) овёс
- в) пшеница

**6. Какие макаронные изделия вы отнесёте к трубчатым?**

- а) вермишель
- б) макароны
- в) лапша






**7. Какие макаронные изделия варятся 12 – 15 минут?**

- а) макароны
- б) вермишель
- в) лапша

**8. Макароны вырабатывают из:**

- а) мелких сортов пшеницы
- б) средних сортов пшеницы
- в) твёрдых сортов пшеницы

**9. Нарисовать символы**

-  ручная стирка разрешена при  $t$  не выше  $40^{\circ}\text{C}$
-  не отбеливать
-  сухая чистка запрещена
-  гладить при  $t$  не более  $150^{\circ}\text{C}$
-  не гладить

**10. Что относится к ежедневной уборке:**

- а) проветривание
- б) зарядка
- в) уборка постели
- г) протираание пыли
- д) чистка обуви
- ж) влажная уборка пола в кухне

**11. Материалы и инструменты для вязания спицами:**

- а) спицы
- б) крючок
- в) пряжа
- г) наперсток

**12. Нарисовать условные обозначения лицевой и изнаночной петель.**

**13. Дать определение что такое «раппорт»**

**14. Волокна растительного и животного происхождения относятся к волокнам:**

- а) искусственным;
- б) синтетическим;
- в) натуральным;

**15. Природный цвет волокон шерсти бывает:**

- а) белый;
- б) черный;
- в) оранжевый;
- г) коричневый;
- д) серый;

**16. К технологическим свойствам тканей относится:**

- а) прочность;
- б) драпируемость
- в) раздвижка нитей в ткани;
- г) усадка;
- д) осыпаемость;

**17. В бытовой швейной машине имеются регуляторы:**

- а) длины стежка;
- б) ширина стежка;
- в) ширина зигзага;
- г) натяжения верхней нити;

**18. Обрыв верхней нити может произойти по причине:**

- а) неправильного положения прижимной лапки;
- б) слишком большого натяжения верхней нити;
- в) неправильной заправки верхней нити;
- г) вставленного не до упора челночного устройства шпульного колпачка;

**19. При снятии мерок записывают полностью (не делят пополам) величины:**

- а) Ди;
- б) Ст;
- в) Сб;
- г) Ог;
- д) Сш;

**20. Мерки снимают с \_\_\_\_\_ стороны фигуры.**

- а) правой;
- б) левой;

**21. Снятие мерки «полуобхват талии» выполняется:**

- а) горизонтально сзади на уровне талии, между наиболее вдавленными точками на боковой поверхности туловища;
- б) горизонтально вокруг туловища на уровне талии;
- в) горизонтально вокруг туловища на уровне талии на полном выдохе.

**22. Мерку Сб снимают:**

- а) для определения длины пояса;
- б) для определения длины изделия;
- в) для определения ширины изделия;

**23. Установите соответствие между термином и его определением. Напишите возле цифры из левого столбца соответствующую ей букву из правого столбца.**

Термин	Значение термина
1. Шов	а) последовательный ряд стежков;
2. Стежок	б) расстояние между двумя проколами иглы
3. Строчка	в) последовательность стежков, выполненных для соединения деталей изделия друг с другом

**24. Стрелка на листе выкроек означает:**

- а) направление долевой нити;
- б) направление поперечной нити;

**25. Раскрой- это:**

- а) вырезание бумажных деталей швейного изделия, полученных в соответствии с чертежом;
- б) процесс получения тканевых деталей путем их вырезания из куска ткани;
- в) процесс получения тканевых деталей путем вырезания из куска ткани в соответствии с деталями выкройки и с учетом припуска на швы.

**26. Сметывание- это:**

- а) временное соединение мелкой детали с крупной или не основной детали с основной стежками временного назначения;
- б) соединение двух деталей, примерно равных по величине, по намеченным линиям стежками временного назначения;
- в) закрепление подогнутого края детали, складок, вытачек, защипов стежками временного назначения.