

Задания для проведения промежуточной аттестации по технологии в 6 классе для учащихся заочной формы обучения

Инструкция

Выполните задания и в зачетный день для проверки пришлите файл по электронной почте.

Электронный ресурс для подготовки к аттестации: <https://vadi.sk/i/fAwEStR7tG8Sh>

УЧИТЕЛЬ: Колычева Эльвира Ивановна (кабинет 02)
ekolycheva04@gmail.com

1 четверть (не позднее 16.10.2023)

Контрольная работа по темам: "Интерьер жилого дома". Часть А.

Выберете правильные ответы (один или несколько):

1. Что относится к отделке потолка:

- а) подвесные потолки
- б) натяжные
- в) подшивные
- г) окрашенные

2. Для отделки стен используют:

- а) штукатурка
- б) керамическая плитка
- в) пластиковые панели
- г) обои
- д) ламинат

3. Что относится к отделке пола:

- а) паркет
- б) массивная доска
- в) обои
- г) линолеум
- д) плитка

4. Что относится к основным способам декорирования интерьера:

- а) обивка мягкой мебели
- б) шторы, тюль
- в) ковры
- г) картины
- д) цветы

Часть Б. Дополните ответы.

1. Жилой дом - это...
2. Элемент убранства квартиры, поддающийся правилам фитодизайна - это _____ .

Часть С. Дайте развернутый ответ.

1. Перечислите отдельные зоны (зонирования) жилого дома:
2. Перечислите технологию выращивания комнатных растений:

2 четверть (не позднее 18.12.2023)

Контрольная работа по темам: "Создание швейных изделий".

Часть А. Выберете правильные ответы (один или несколько):

1. **Искусственное шелковое волокно - это волокно:**

- а) химическое
- б) синтетическое

2. **Ткани из волокон искусственного шелка имеют свойства**

- а) не мнутся
- б) блестящие
- в) жесткие
- г) имеют хорошие теплозащитные свойства
- д) не скользят при раскрое

3. **Синтетические волокна получают**

- а) из древесины
- б) нефти
- в) растения

4. **Какие мерки необходимы для построения чертежа основы плечевого изделия**

- а) Ош
- б) Ог
- в) Оп
- г) Дтс
- д) Ди
- е) Дпр

5. **Установите соответствие**

- 1. Примётывание
- 2. Вымётывание

а. Это временное ниточное закрепление предварительно стачанных на машинке и вывернутых краёв деталей для сохранения приданной им формы.

б. Это временное ниточное соединение мелких деталей с крупными, например: подкройной обтачки с деталями спинки и переда.

1- ____ ; 2- ____ .

Часть Б. Дополните ответы.

1. Моделирование - это...

2. Сложным и ответственным этапом изготовления швейного изделия, называется _____ .

Часть С. Дайте развернутый ответ.

1. Какие правила нужно соблюдать при снятии мерок.

3 четверть (не позднее 11.03.2024)
Контрольная работа по темам: "Кулинария".

Часть А. Выберите правильные ответы (один или несколько):

1. Установите соответствие

1. рассыпчатая каша

2. вязкая каша

3. жидкая каша

а) держится на тарелке горочкой, не расплывается. Зёрна в ней должны быть хорошо разварены и слипаться между собой.

б) зёрна должны быть набухшими, полностью проваренными, легко отделяться друг от друга.

в) варят так же, как и рассыпчатые только увеличивают количество жидкости.

2. В кулинарии рыбу можно разделить по каким признакам

а) по размерам

б) по характеру покрова

в) по состоянию

г) по строению

д) по способу разделки

е) по содержанию жира

3. По каким признакам можно определить доброкачественность рыбы

а) неприятному запаху

б) блестящая чешуя

в) выпуклые прозрачные глаза

г) крепко вросшая чешуя

д) красные жабры

4. К нерыбным продуктам моря относятся

а) крабы

б) креветки

в) речные раки

г) карась

д) омары

е) морские водоросли

5. Что относится к признакам доброкачественности мяса

а) запах

б) цвет

в) консистенция

Часть Б. Дополните ответы.

1. Запанировать - это...

2. Один из древнейших продуктов питания человека это - _____ .

Часть С. Дайте развернутый ответ.

1. Какую технологию нужно соблюдать при приготовлении каш.

4 четверть

(не позднее 04.05.2024) Итоговая контрольная работа

1. Выпишите все санитарно - гигиенические требования:

- а) руки мойте с мылом;
- б) проверьте исправность шнура перед выключением электроприбора;
- в) наденьте фартук;
- г) уберите волосы под головной убор;
- д) включайте и выключайте электроприборы сухими руками

2. Какие продукты получают из молока?

- а) творог
- б) масло сливочное
- в) сметану
- г) кефир
- д) сырники

3. Кисломолочными продуктами являются:

- а) молоко
- б) кефир
- в) мороженое
- г) сметана

4. Каши можно варить:

- а) на молоке
- б) на воде
- в) на киселе
- г) на компоте

5. Манную крупу вырабатывают из зерновой культуры:

- а) просо
- б) овёс
- в) пшеница

6. Какие макаронные изделия вы отнесёте к трубчатым?

- а) вермишель
- б) макароны
- в) лапша

7. Какие макаронные изделия варятся 12 - 15 минут?




- а) макароны
- б) вермишель
- в) лапша

8. Макароны вырабатывают из:

- а) мелких сортов пшеницы
- б) средних сортов пшеницы
- в) твёрдых сортов пшеницы

ручная стирка разрешена при t не выше 40°C

не отбеливать

-  сухая чистка запрещена
-  гладить при t не более 150°C
-  не гладить

9. Что относится к ежедневной уборке:

10. нарисовать символы

- а) проветривание
- б) зарядка
- в) уборка постели
- г) протираание пыли
- д) чистка обуви
- ж) влажная уборка пола в кухне

11. Материалы и инструменты для вязания спицами:

- а) спицы
- б) крючок
- в) пряжа
- г) наперсток

12. Нарисовать условные обозначения лицевой и изнаночной петель.

13. Дать определение что такое «раппорт»

14. Волокна растительного и животного происхождения относятся к волокнам:

- а) искусственным;
- б) синтетическим;
- в) натуральным;

15. Природный цвет волокон шерсти бывает:

- а) белый;
- б) черный;
- в) оранжевый;
- г) коричневый;
- д) серый;

16. К технологическим свойствам тканей относится:

- а) прочность;
- б) драпируемость
- в) раздвижка нитей в ткани;
- г) усадка;
- д) осыпаемость;

17. В бытовой швейной машине имеются регуляторы:

- а) длины стежка;
- б) ширина стежка;
- в) ширина зигзага;
- г) натяжения верхней нити;

18. Обрыв верхней нити может произойти по причине:

- а) неправильного положения прижимной лапки;
- б) слишком большого натяжения верхней нити;
- в) неправильной заправки верхней нити;

г) вставленного не до упора челночного устройства шпульного колпачка;

19. При снятии мерок записывают полностью (не делят пополам) величины:

а) Ди;

б) Ст;

в) Сб;

г) Ог;

д) Сш;

20. Мерки снимают с _____ стороны фигуры.

а) правой;

б) левой;

21. Снятие мерки «полуобхват талии» выполняется:

а) горизонтально сзади на уровне талии, между наиболее вдавленными точками на боковой поверхности туловища;

б) горизонтально вокруг туловища на уровне талии;

в) горизонтально вокруг туловища на уровне талии на полном выдохе.

22. Мерку Сб снимают:

а) для определения длины пояса;

б) для определения длины изделия;

в) для определения ширины изделия;

23. Установите соответствие между термином и его определением. Напишите возле цифры из левого столбца соответствующую ей букву из правого столбца.

Термин	Значение термина
1. Шов	а) последовательный ряд стежков;
2. Стежок	б) расстояние между двумя проколами иглы
3. Строчка	в) последовательность стежков, выполненных для соединения деталей изделия друг с другом

24. Стрелка на листе выкроек означает:

а) направление долевой нити;

б) направление поперечной нити;

25. Раскрой- это:

а) вырезание бумажных деталей швейного изделия, полученных в соответствии с чертежом;

б) процесс получения тканевых деталей путем их вырезания из куска ткани;

в) процесс получения тканевых деталей путем вырезания из куска ткани в соответствии с деталями выкройки и с учетом припуска на швы.

26. Сметывание- это:

а) временное соединение мелкой детали с крупной или не основной детали с основной стежками временного назначения;

б) соединение двух деталей, примерно равных по величине, по намеченным линиям стежками временного назначения;

в) закрепление подогнутого края детали, складок, вытачек, защипов стежками временного назначения.